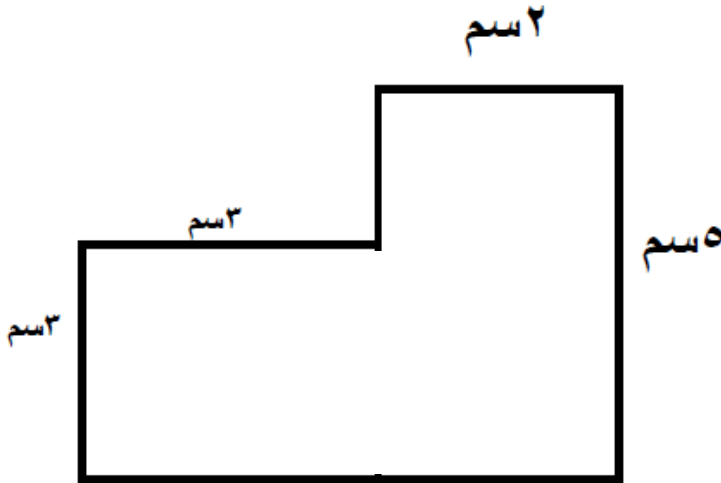


تأمل الشكل المقابل .

احسب ما يلي :

(١) المحيط

(٢) المساحة



(١) يجمع إبراهيم الطوابع ويحتفظ بسجل لمصدر الطوابع فكانت النتائج كالتالي .

المنطقة	التكرار
أوروبا	٥
أمريكا	٣
آسيا	٩
بقية العالم	٦

المنوال =



حوظ على احتمال ظهور الحرف ١ عند تدوير القرص المقابل :

مستحيل غير مرجح متساو القرص مرجح مؤكد

اكتب عددا في كل مربع من هذه المربعات بحيث يكون المنوال لها يساوي ٣

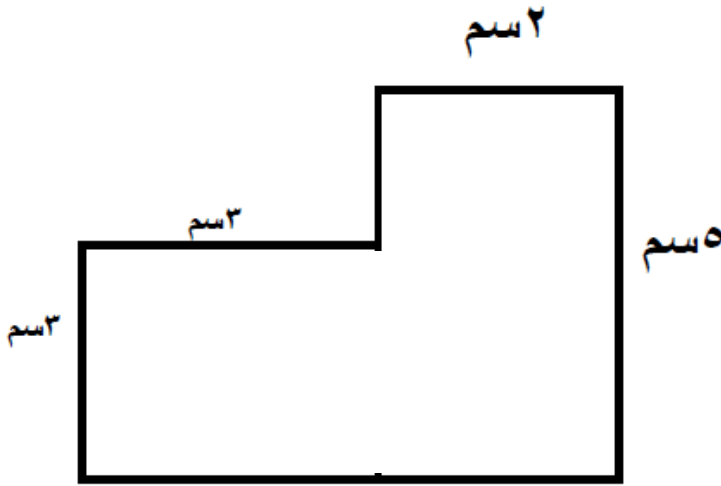


تأمل الشكل المقابل .

احسب ما يلي :

(٣) المحيط

(٤) المساحة



(١) يجمع إبراهيم الطوابع ويحتفظ بسجل لمصدر الطوابع فكانت النتائج كالتالي .

المنطقة	التكرار
أوروبا	٥
أمريكا	٣
آسيا	٩
بقية العالم	٦



المنوال =



حوظ على احتمال ظهور الحرف ١ عند تدوير القرص المقابل :

مستحيل غير مرجح متساو القرص مرجح مؤكد

اكتب عددا في كل مربع من هذه المربعات بحيث يكون المنوال لها يساوي ٣



حوط عدد الدقائق في ١٠ ساعات .

[٧]

٦٠٠

٢٤٠

٧٠

٦٠

اكتب عدداً في المربع لجعل العدد ١١ هو الوسيط

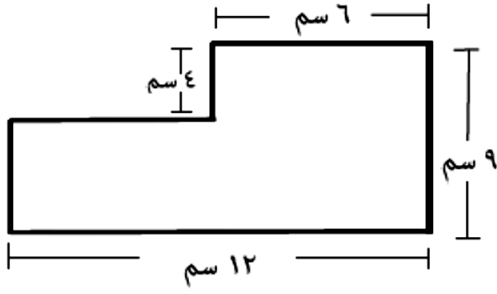


٢ ، ١٠ ، ١٤ ، ١١ ، ٩ ، ١٢ ،

تقول فاطمة " مساحة الشكل المقابل ٨٤ سم^٢ "

اذا كانت فاطمة على صواب.

وضح كيف توصلت للإجابة.



وضح خطوات الحل هنا.

[٧]