

Série 1

Exercice 1 – Segments de Courant

Trois fils se trouvent aux coins d'un carré, tous transportant des courants de 2 ampères dans les sens indiqués sur la figure ci-dessous (Fig. 1).

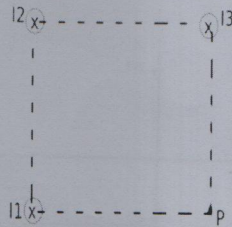


Fig.1

- Par des considérations de symétrie, déterminer :
 - Les variables dont dépend le champ magnétique créé en P ($\vec{B}(P)$).
 - La direction du $\vec{B}(P)$ créé par chaque courant.
- Calculer l'intensité du $\vec{B}(P)$ créé par les trois courants au quatrième coin du carré, point P, avec la longueur de chaque côté du carré est de 1 cm.
- En gardant les mêmes courants dans les fils 1 et 3, quel devrait être le courant dans le fil 2 pour neutraliser les champs magnétiques des fils 1 et 3 afin qu'il n'y ait pas de champ magnétique au point P ?
- Maintenant si le point P portant un fil conducteur transportant un courant I_4 de 2 ampères, son sens est le même que les autres courants. Déterminer le champ magnétique créé au centre O du carré.

Exercice 2 – Segments de courant & spire semi-circulaire

On considère le circuit suivant :

Les fils 1 et 2 sont rectilignes et de longueurs infinies, M'AM est un demi cercle de centre O, de rayon R, le circuit est parcouru par un courant I, le sens du courant est indiqué sur le circuit (Fig. 2).

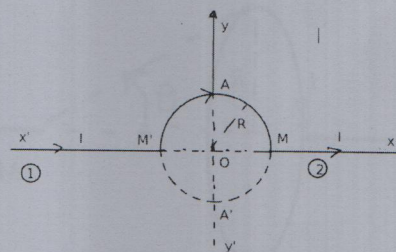


Fig.2

Déterminer le champ magnétique créé par ce circuit :

- Au centre O,
- Au point A',

On donne : $\int \frac{d\alpha}{\cos\alpha} = \ln \left(\tan\left(\frac{\alpha}{2} + \frac{\pi}{4}\right) \right) + Cte$

Exercice 3 – Spire carrée

On considère une spire carrée de côté a parcourue par un courant I (Fig. 3). On veut calculer le champ magnétique \vec{B} en M sur l'axe Oz de la spire.

1. En étudiant la symétrie, déterminer la direction du champ magnétique \vec{B} en M .
2. Exprimer \vec{B} .
3. Étudier le comportement à l'infini sur l'axe et vérifier que la spire se comporte comme un dipôle magnétique.

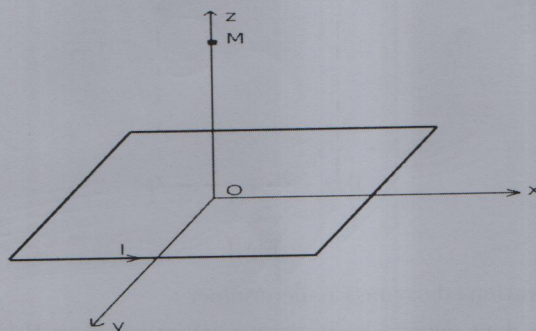


Fig. 3

Exercice 4 – Solénoïde

Soit une spire de rayon R parcourue par un courant I (Fig. 4).

1. Calculer le champ magnétique créé par la spire en M .

On dispose d'un solénoïde de longueur l comportant N spires circulaires jointives de rayon R (Fig. 5), il est traversé par le courant I .

2. En utilisant la loi de Biot et Savart, déterminer le champ magnétique du solénoïde en un point de son axe. Déduire le champ magnétique pour un solénoïde infini ($l \gg R$).
3. En utilisant le théorème d'Ampère, trouver le champ magnétique créé par le solénoïde infini.

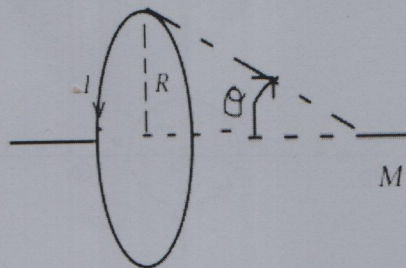


Fig. 4


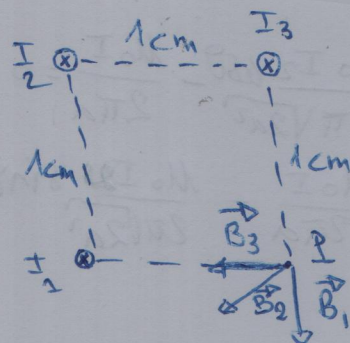


Fig. 5

Exercice 1:



1-a) La distribution de courant est invariante par translation et par rotation

$$\Rightarrow \vec{B}(r, \theta, z) = \vec{B}(r)$$

b) Le plan qui contient un fil conducteur et passant par le point P est un plan de symétrie, donc le champ magnétique créé est \perp à ce plan. La direction des champs est mentionnée sur la figure.

2- selon la loi de Biot et Savart pour un fil rectiligne: $B(r) = \frac{\mu_0 I}{2\pi r}$

$$\text{on a } B_1(r) = B_3(r) = \frac{\mu_0 I}{2\pi a} \quad (a = 1\text{cm}, I = 2\text{A})$$

$$\mu_0 = 1,2566 \cdot 10^{-6} \text{ Tm/A}$$

$$= \frac{1,2566 \times 2 \cdot 10^{-6}}{2\pi \cdot 10^{-2}}$$

$$= 0,4 \cdot 10^{-5} \text{ T} = 4 \cdot 10^{-5} \text{ T}$$

$$B_2(r) = \frac{\mu_0 I}{2\pi R_1} \quad (R_1 = \sqrt{2}a^2)$$

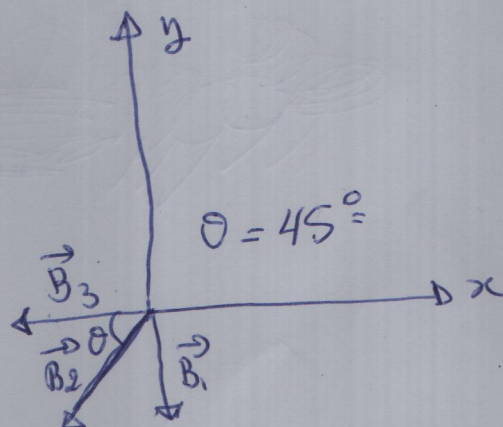
$$= 2,83 \cdot 10^{-5} \text{ T}$$

soit

$$\vec{B} = \begin{cases} \vec{B}_x = -B_3 \vec{e}_x - B_2 \cos \theta \vec{e}_x \\ \vec{B}_y = -B_1 \vec{e}_y - B_2 \sin \theta \vec{e}_y \end{cases}$$

$$\begin{cases} \vec{B}_x = -6 \times 10^{-5} \vec{e}_x \\ \vec{B}_y = -6 \times 10^{-5} \vec{e}_y \end{cases}$$

$$B_T = \sqrt{B_x^2 + B_y^2} = 8,48 \cdot 10^{-5} \text{ T}$$



3) Pour que le champ soit nul en P, il faut que $\vec{B}_1 + \vec{B}_2 + \vec{B}_3 = \vec{0}$

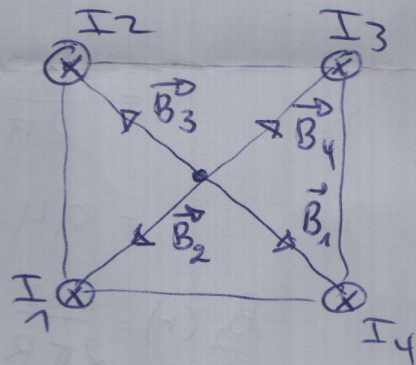
$$\begin{cases} B_{1x} + B_{2x} + B_{3x} = 0 \\ B_{1y} + B_{2y} + B_{3y} = 0 \end{cases} \Rightarrow \begin{cases} -\frac{\mu_0 I_2 \cos \theta}{2\pi\sqrt{2}a^2} - \frac{\mu_0 I}{2\pi a} = 0 \\ -\frac{\mu_0 I}{2\pi a} - \frac{\mu_0 I_2 \sin \theta}{2\pi\sqrt{2}a^2} = 0 \end{cases}$$

$$\frac{\mu_0 I_2 \cos \theta}{2\pi\sqrt{2}a^2} = -\frac{\mu_0 I}{2\pi a} \Rightarrow \frac{I_2}{\sqrt{2}} \cos \theta = -I \Rightarrow I_2 = -\frac{I\sqrt{2}}{\cos \theta} \left(\cos \theta = \frac{1}{\sqrt{2}} \right)$$

$$\Rightarrow I_2 = -2I = -4A.$$

Le courant nécessaire pour annuler le champ magnétique en P est de 4A dans le sens inverse de I_1 et I_3

4) Les quatre champs créés par les fils ont le même module $\frac{\mu_0 I}{\sqrt{2}\pi a}$
on a $\vec{B}_2 = -\vec{B}_4$ et $\vec{B}_3 = -\vec{B}_1 \Rightarrow \vec{B}_T = \vec{0}$



Exercice 2

1. Au centre O

Pour trouver le champ magnétique en un pt, il faut ajouter vectoriellement les contributions

des conducteurs rectilignes et semi-circulaire en ce pt.

* le champ créé par les conducteurs rectilignes est nul, $d\vec{l} \wedge \vec{u} = \vec{0}$

* la contribution du demi-cercle est: $dB = \frac{\mu_0 I}{4\pi} \frac{\|d\vec{l} \wedge \vec{u}\|}{R^2}$ ($\vec{u} = \frac{\vec{R}}{R}$)

$$d\vec{l} \perp \vec{u} \Rightarrow dB = \frac{\mu_0 I}{4\pi} \frac{dl}{R^2}$$

$$\Rightarrow B = \frac{\mu_0 I}{4\pi R^2} \int_{MAM'} dl = \frac{\mu_0 I}{4\pi R^2} \int_0^\pi d\theta = \frac{\mu_0 I}{4R}$$

Au point A'

* Deux fils rectilignes

$$dB_1 = \frac{\mu_0 I}{4\pi} \frac{\|d\vec{l} \wedge \vec{u}\|}{r^2}$$

$$= \frac{\mu_0 I}{4\pi} \frac{dl \sin(\frac{\pi}{2} - \alpha)}{r^2}$$

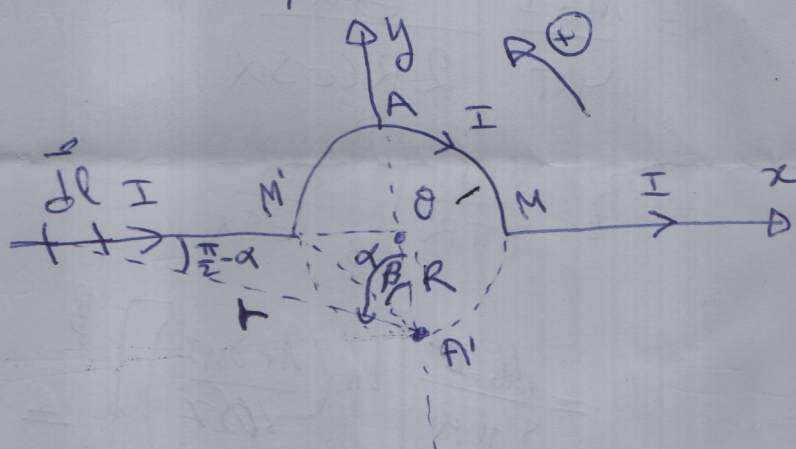
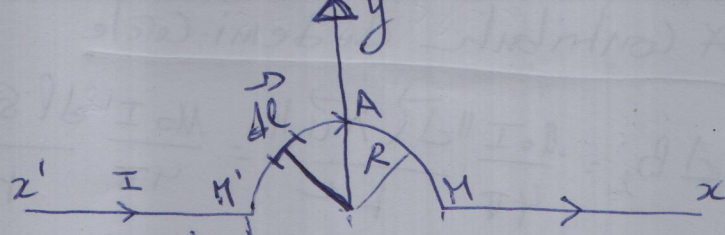
$$\text{on a } \tan \alpha = \frac{l}{R} \Rightarrow dl = \frac{R}{\cos^2 \alpha} d\alpha$$

$$dB_1 = \frac{\mu_0 I}{4\pi r^2 \cos^2 \alpha} R \cos \alpha d\alpha = \frac{\mu_0 I}{4\pi r^2 \cos \alpha} R d\alpha$$

$$\text{on a } \cos \alpha = \frac{R}{r} \Rightarrow dB_1 = \frac{\mu_0 I \cos^2 \alpha}{4\pi R^2 \cos \alpha} R d\alpha = \frac{\mu_0 I \cos \alpha}{4\pi R} d\alpha$$

$$B_1 = \int_{\frac{\pi}{2}}^0 \frac{\mu_0 I}{4\pi R} [\sin \alpha]_{\frac{\pi}{2}}^0 = \frac{\mu_0 I}{4\pi R} (1 - \sin \frac{\pi}{2}) = \frac{\mu_0 I}{4\pi R} (1 - \frac{\sqrt{2}}{2})$$

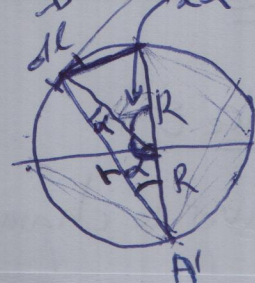
Le champ magnétique créé par l'autre demi-droite a le même module



$$\Delta B_z = \frac{\mu_0 I}{4\pi} \frac{\|\vec{dl} \wedge \vec{u}\|}{r^2} = \frac{\mu_0 I}{4\pi} \frac{dl \sin(\frac{\pi}{2} + \alpha)}{r^2}$$

$$= \frac{\mu_0 I}{4\pi} \frac{dl \cos \alpha}{r^2} \quad (\cos \alpha = \frac{r}{2R})$$

$$= \frac{\mu_0 I}{4\pi} \frac{dl \cos \alpha}{(2R)^2 \cos \alpha}$$



on a: $dl = R d\theta = 2R d\alpha$ ($\theta = 2\alpha$)

$$= \frac{\mu_0 I}{4\pi} \frac{2R d\alpha \cos \alpha}{4R^2 \cos^2 \alpha}$$

$$= \frac{\mu_0 I}{4\pi} \frac{d\alpha}{2R \cos \alpha}$$

$$\Rightarrow B_z = \frac{\mu_0 I}{8\pi R} \int_{-\beta}^{\beta} \frac{d\alpha}{\cos \alpha}$$

$$2\alpha + \chi = \pi$$

$$\chi + \theta = \pi$$

$$2\alpha + \chi - \chi - \theta = 0$$

$$2\alpha - \theta = 0$$

$$\theta = 2\alpha$$

on sait que $\int \frac{d\alpha}{\cos \alpha} = \ln\left(\tan\left(\frac{\alpha}{2} + \frac{\pi}{4}\right)\right) + cte$

alors $B_z = \frac{\mu_0 I}{8\pi R} \left[\ln\left(\tan\left(\frac{\alpha}{2} + \frac{\pi}{4}\right)\right) \right]_{-\beta}^{\beta}$

$$\Rightarrow B_z = \frac{\mu_0 I}{8\pi R} \left(\ln\left(\tan\left(\frac{\beta}{2} + \frac{\pi}{4}\right)\right) - \ln\left(\tan\left(-\frac{\beta}{2} + \frac{\pi}{4}\right)\right) \right)$$

on a $\beta = \frac{\pi}{4} \Rightarrow B_z = \frac{\mu_0 I}{8\pi R} \left(\ln\left(\tan\left(\frac{3\pi}{8}\right)\right) - \ln\left(\tan\left(\frac{\pi}{8}\right)\right) \right)$

$$= \frac{\mu_0 I}{8\pi R} \ln\left(\frac{\tan\left(\frac{3\pi}{8}\right)}{\tan\left(\frac{\pi}{8}\right)}\right)$$

$$= \frac{\mu_0 I}{8\pi R} \ln\left(\frac{\sqrt{2}+1}{\sqrt{2}-1}\right) = \frac{\mu_0 I}{8\pi R} \ln(\sqrt{2}+1)^2$$

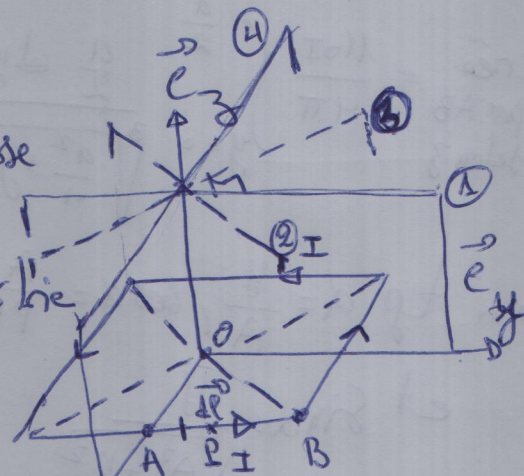
$$= \frac{\mu_0 I}{4\pi R} \ln(\sqrt{2}+1)$$

Le champ magnétique total en A' est donc $B = B_z + 2B_1 \Rightarrow B = \frac{\mu_0 I}{4\pi R} \left[\ln(\sqrt{2}+1) + 2\sqrt{2} \right]$

Exercice 3

1) Le plan qui contient l'axe (Ox) et passe par M est un plan d'antisymétrie.

En fait, il y a quatre plans d'antisymétrie qui passent par M (voir figure)



plan 1) Contient l'axe (Oy) ^{qui} passe par M.

plan 2) " " (Ox) " " "

plans 3) et (4) contiennent les deux diagonales du carré et passent par M

Le champ en M doit appartenir à ces plans $\Rightarrow \vec{B}(z) = B(z) \vec{e}_z$

2) on a chaque demi côté créant selon z le même B_z

$$\vec{B}(z) = 8 B_3(z) \vec{e}_z$$

$B_3(z)$ est le champ créé par AB en M

Maintenant on va calculer le champ créé par AB en M

$$\vec{B}_{\text{créé par AB}} = \frac{\mu_0 I}{4\pi} \int_{AB} \frac{d\vec{l} \wedge \vec{r}_{PM}}{\|\vec{r}_{PM}\|^3}$$

$$\text{on a: } \vec{OP} = \frac{a}{2} \vec{e}_x + y \vec{e}_y$$

$$d\vec{l} = d\vec{P} = dy \vec{e}_y$$

$$\text{on a aussi } \vec{OM} = z_M \vec{e}_z \text{ et } \vec{PM} = \vec{PO} + \vec{OM} = \vec{OM} - \vec{OP} = z_M \vec{e}_z - \frac{a}{2} \vec{e}_x - y \vec{e}_y$$

$$\Rightarrow \|\vec{PM}\| = \sqrt{\frac{a^2}{4} + y^2 + z_M^2}$$

$$\text{et } d\vec{l} \wedge \vec{PM} = dy z_M \vec{e}_y \wedge \vec{e}_z = dy \frac{a}{2} \vec{e}_y \wedge \vec{e}_x = dy z_M \vec{e}_x + dy \frac{a}{2} \vec{e}_z$$

$$B_{\text{crée}} = \frac{\mu_0 I}{4\pi} \int_{y=0}^{\frac{a}{2}} \frac{\frac{a}{2} dy}{\sqrt{\frac{a^2}{4} + y^2 + z_M^2}}$$

on a $\tan \alpha = \frac{y}{A}$, $\cos \alpha = \frac{A}{PM} = \frac{A}{\sqrt{A^2 + y^2}}$

et $\sin \alpha = \frac{y}{\sqrt{A^2 + y^2}}$

donc $dy = \frac{A}{\cos^2 \alpha} d\alpha$

$$\Rightarrow \int \frac{dy}{\sqrt{\frac{a^2}{4} + y^2 + z_M^2}} = \int_0^{\alpha_{\max}} \frac{A d\alpha}{\cos^2 \alpha \sqrt{A^2 + y^2}}$$

$$= \frac{1}{A^2} \int_0^{\alpha_{\max}} \frac{1}{\cos^2 \alpha} \frac{A^3}{(A^2 + y^2)^{3/2}} d\alpha$$

on a $\cos \alpha = \frac{A}{(A^2 + y^2)^{1/2}} \Rightarrow \int \frac{dy}{\sqrt{\frac{a^2}{4} + y^2 + z_M^2}} = \frac{1}{A^2} \int_0^{\alpha_{\max}} \frac{\cos^3 \alpha}{\cos^2 \alpha} d\alpha$

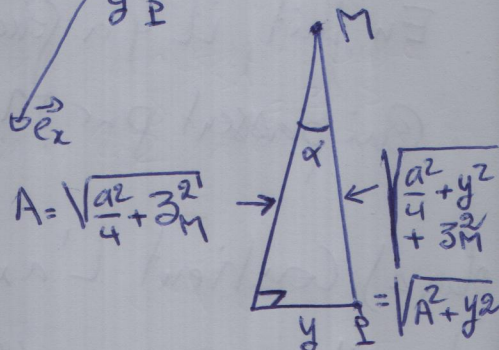
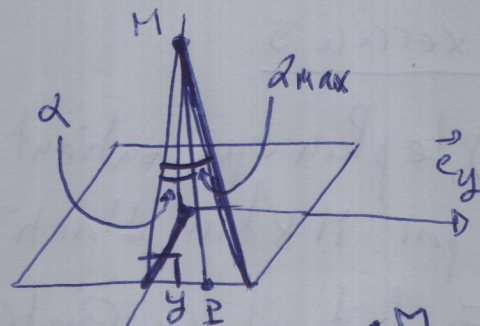
$$= \frac{1}{A^2} [\sin \alpha]_0^{\alpha_{\max}}$$

$$= \frac{1}{A^2} \sin \alpha_{\max}$$

$$\Rightarrow B_{3AB} = \frac{\mu_0 I}{4\pi} \frac{a/2}{A^2} \sin \alpha_{\max}$$

$$= \frac{\mu_0 I}{4\pi} \frac{a/2}{\left(\frac{a^2}{4} + z_M^2\right)} \frac{a/2}{\sqrt{\frac{a^2}{4} + \frac{a^2}{4} + z_M^2}}$$

$$\Rightarrow \vec{B}_T = 8 B_{3AB} = \frac{\mu_0 I a^2}{2\pi \left(\frac{a^2}{4} + z_M^2\right)} \frac{1}{\sqrt{\frac{a^2}{2} + z_M^2}} \vec{e}_z$$



3) si $z \rightarrow +\infty$

$$\vec{B} \approx \frac{\mu_0 I a^2}{2\pi} \frac{1}{z^3} \vec{e}_z$$

on a le moment magnétique d'un dipôle magnétique est $\vec{M} = I \cdot \vec{S}$

dans notre cas $S = a^2$

$$\text{donc } \vec{M} = I a^2 \vec{e}_z$$

on a le champ magnétique d'un dipôle magnétique est :

$$\vec{B} = \frac{\mu_0 M}{4\pi r^3} (2 \cos \theta \vec{e}_r + \sin \theta \vec{e}_\theta) \text{ (coordonnées sphériques)}$$

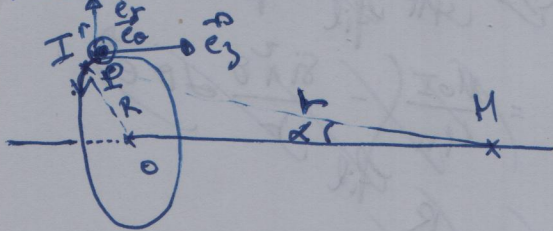
pour $z \rightarrow +\infty$ ~~$\theta = 0$~~ $\theta = 0$ donc $\cos \theta = 1$
et $\vec{e}_r = \vec{e}_z$ et $\sin \theta = 0$

$$\vec{B} = \frac{\mu_0 M}{2\pi r^3} \vec{e}_z$$

$$= \frac{\mu_0 I a^2}{2\pi z^3} \vec{e}_z \text{ donc c'est vérifié}$$

Exercice 4

1) Spire circulaire



$$d\vec{B}(z) = \frac{\mu_0 I}{4\pi} \frac{d\vec{l} \wedge \vec{r}}{r^3}$$

$$d\vec{B} = \frac{\mu_0 I}{4\pi} \frac{d\vec{l} \wedge (\vec{r}_0 + \vec{OM})}{r^3}$$

$$= \frac{\mu_0 I}{4\pi} \frac{d\vec{l} \wedge (-R\vec{e}_r + z\vec{e}_z)}{r^3}$$

on a $d\vec{l} = R d\theta \vec{e}_\theta$

$$\Rightarrow d\vec{B} = \frac{\mu_0 I}{4\pi} \frac{R d\theta (R\vec{e}_z + z\vec{e}_r)}{(R^2 + z^2)^{3/2}}$$

$$d\vec{B} = \frac{\mu_0 I}{4\pi} \frac{R^2 d\theta \vec{e}_z}{(R^2 + z^2)^{3/2}}$$

$$\vec{B} = \frac{\mu_0 I}{4\pi} \frac{R^2}{(R^2 + z^2)^{3/2}} \int_0^{2\pi} d\theta \vec{e}_z$$


$$= \frac{\mu_0 I}{4\pi} \frac{R^2}{(R^2 + z^2)^{3/2}} 2\pi \vec{e}_z$$

$$= \frac{\mu_0 I}{2R} \frac{R^3}{(R^2 + z^2)^{3/2}} \vec{e}_z$$

on a $\sin \alpha = \frac{R}{r} = \frac{R}{(R^2 + z^2)^{1/2}}$

$$\vec{B} = \frac{\mu_0 I}{2R} \sin^3 \alpha \vec{e}_z$$

2) Solénoïde fini



soit $n = \frac{N}{L}$ est le nbre de spire par unité de longueur

N est le nbre de spire dans le solénoïde

si $N = nL$

alors le nbre de spire dans dz est $n dz$

si $dI = \text{nbre spire} \times I$
 $= n dz I$

Le champ magnétique élémentaire crée par $n dz$ spires de courant élémentaire dI est

$$dB = \frac{\mu_0 dI}{2R} \sin^3 \alpha = \frac{\mu_0 n dz I}{2R} \sin^3 \alpha$$

par symétrie \vec{B} est suivant (Oz)

on a $\tan \alpha = \frac{R}{z} \Rightarrow z = \frac{R}{\tan \alpha} \Rightarrow dz = -\frac{R}{\sin^2 \alpha} d\alpha$

$$B = -\frac{\mu_0 n I}{2R} \int_{\alpha_1}^{\alpha_2} \frac{R \sin^3 \alpha}{\sin^2 \alpha} d\alpha = +\frac{\mu_0 n I}{2} [\cos \alpha]_{\alpha_1}^{\alpha_2}$$

$$= \frac{\mu_0 n I}{2} (\cos \alpha_2 - \cos \alpha_1)$$

Solénoïde infini

$\alpha_2 \rightarrow 0$, et $\alpha_1 \rightarrow \pi$

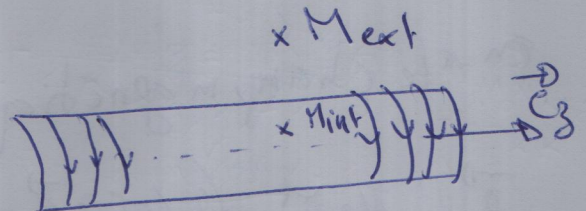
$$B = \frac{\mu_0 n I}{2} \times 2 = \mu_0 n I$$

Exercice 4 (suite)

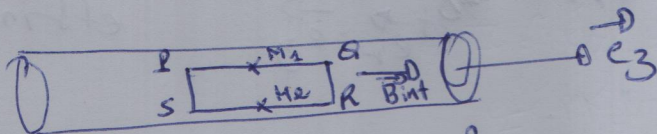
3) Trouver le champ magnétique du solénoïde ^{infini} en appliquant le théorème d'Ampère :

choix du contour : on choisit un contour qui va être perpendiculaire en tangente aux lignes de champ magnétique, on sait que le champ magnétique est dirigé suivant OZ , alors le contour est un cadre rectangulaire (voir figure).

on va calculer le champ magnétique à l'intérieur et à l'extérieur du solénoïde



1^{er} cas : contour à l'intérieur du solénoïde



$$C = \int_P^Q \vec{B} \cdot d\vec{l} + \int_Q^R \vec{B} \cdot d\vec{l} + \int_R^S \vec{B} \cdot d\vec{l} + \int_S^P \vec{B} \cdot d\vec{l}$$

$$= B(M_1)PQ + 0 - B(M_2)RS + 0 = B(M_1)PQ - B(M_2)RS = \mu_0 I n l$$

pour un contour à l'intérieur $I n P n c = 0$

$$\Rightarrow B(M_1)PQ = B(M_2)RS$$

$$\Rightarrow B(M_1) = B(M_2) = B_{int}$$

on peut conclure que le champ magnétique à l'intérieur du solénoïde est uniforme.

2^{ème} cas : contour à l'extérieur du solénoïde

$$B(M_1) = B(M_2) = B_{ext}$$

et comme B_{ext} est nul à l'infini

on peut conclure que B_{ext} est nul.

3^{ème} cas on choisit un contour "à cheval"

$$C = B_{ext}PQ - B_{int}RS = \mu_0 I n l = \mu_0 (-n PQ I)$$

$$\text{on a } PQ = RS \Rightarrow B_{int} = B_{ext} + \mu_0 n I \text{ et puis que } B_{ext} = 0 \Rightarrow B_{int} = \mu_0 n I$$

